


몇시일까요

뉴잉글랜드 한국학교 흥부반

이름 :

🔍 시계와 글을 잘 보고, □안에 알맞은 시각을 써 보세요.



긴 바늘이 12를
가리키고,
짧은 바늘이
1을 가리킵니다.

한


시



긴 바늘이 12를
가리키고,
짧은 바늘이
2를 가리킵니다.



시



긴 바늘이 12를
가리키고,
짧은 바늘이
3을 가리킵니다.



시



긴 바늘이 12를
가리키고,
짧은 바늘이
4를 가리킵니다.



시



긴 바늘이 12를
가리키고,
짧은 바늘이
5를 가리킵니다.



시



긴 바늘이 12를
가리키고,
짧은 바늘이
6을 가리킵니다.



시

몇시일까요?	뉴잉글랜드 한국학교 흥부반
	이름 :



•

•

여섯 시



•

•

네 시



•

•

한 시



•

•

열두 시



•

•

열 시

째깍째깍 몇 시일까요?

흥 부 반

이름 :


♥ 시계를 보고 읽어보세요. (예 : 세 시, 여섯 시)



시



시




시



시



시




시



시



시




시₃


숫자 읽기	흥부/ 놀부반
	이름 :

다음 시각에 알맞도록 짧은 바늘을 그려 보세요.


두시




다섯시




일곱시




아홉시



열한시



세시



숫자 읽기

흥부/ 놀부반

이름 :

시계와 글을 잘 보고, □안에 알맞은 시와 분을 써 보세요.



짧은 바늘이 1과 2 사이에 있고, 긴 바늘이 6을 가리킵니다.

한

시

삼십

분



짧은 바늘이 2와 3 사이에 있고, 긴 바늘이 6을 가리킵니다.

시

분



짧은 바늘이 3과 4 사이에 있고, 긴 바늘이 6을 가리킵니다.

시

분



짧은 바늘이 4와 5 사이에 있고, 긴 바늘이 6을 가리킵니다.

시

분



짧은 바늘이 5와 6 사이에 있고, 긴 바늘이 6을 가리킵니다.

시

분



짧은 바늘이 6과 7 사이에 있고, 긴 바늘이 6을 가리킵니다.

시

분

몇시일까요?	뉴잉글랜드 한국학교 흥부반
	이름 :



• 열시 삼십분



• 세시 삼십분



• 여덟시 삼십분




• 여섯시 삼십분




• 한시 삼십분⁶

숫자 읽기	홍부/ 놀부반
	이름 :


다음 시계를 보고 몇 시 몇 분인지 써 보세요.




시 분



시 분



시 분



시 분




시 분




시 분


몇시일까요?	뉴잉글랜드 한국학교 흥부반
	이름 :

 다음 시각에 알맞도록 바늘을 그려 보세요.


다섯시 삼십분



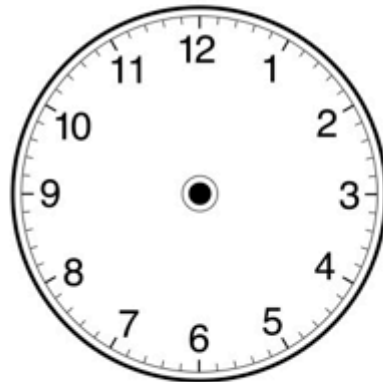
한시 삼십분




세시 삼십분




일곱시 삼십분



아홉시 삼십분




열한시 삼십분




시계 읽기	흥 부 반
	이름 :

♥ 시계와 글을 잘 보고, 몇 분인지 읽어보세요. (예 : 3시 십 분, 3시 이십 분)



긴 바늘이 2를
가리킵니다.

3시 분



3:20

긴 바늘이 4를
가리킵니다.

3시 분



3:30

긴 바늘이 6를
가리킵니다.

3시 분



3:40

긴 바늘이 8를
가리킵니다.

3시 분



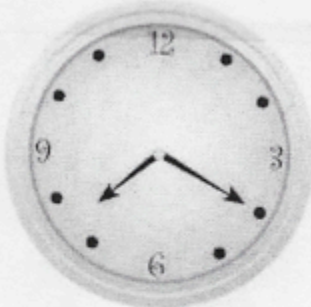
3:50

긴 바늘이 10를
가리킵니다.

3시 분


시계 읽기	홍 부 반
	이름 :

♥ 아래의 시계가 몇시 몇분을 나타내는지 읽어보세요.(예: 일곱 시 이십 분, 한 시 십 분)




7:20

시 이십분




6:40

시 분




4:50

네시 분




2:30

시 분



12:10

시 분



7:20

시 분

몇시일까요?	뉴잉글랜드 한국학교 흥부반
	이름 :



•

•

네시 사십오분



•

•

세시 오분



•

•

두시 오십오분



•

•

열시 십오분



•

•

일곱시 삼십오분

시계 읽기

홍 부 반

이름 :

※ 다음 시각을 나타내는 시계를 찾아 선으로 연결해보세요.

두시 삼십분

다섯시 십분

일곱시 이십분

한시 오십분

여덟시 사십분

세시

8:40



1:50



5:10



3:00



2:30



7:20

